

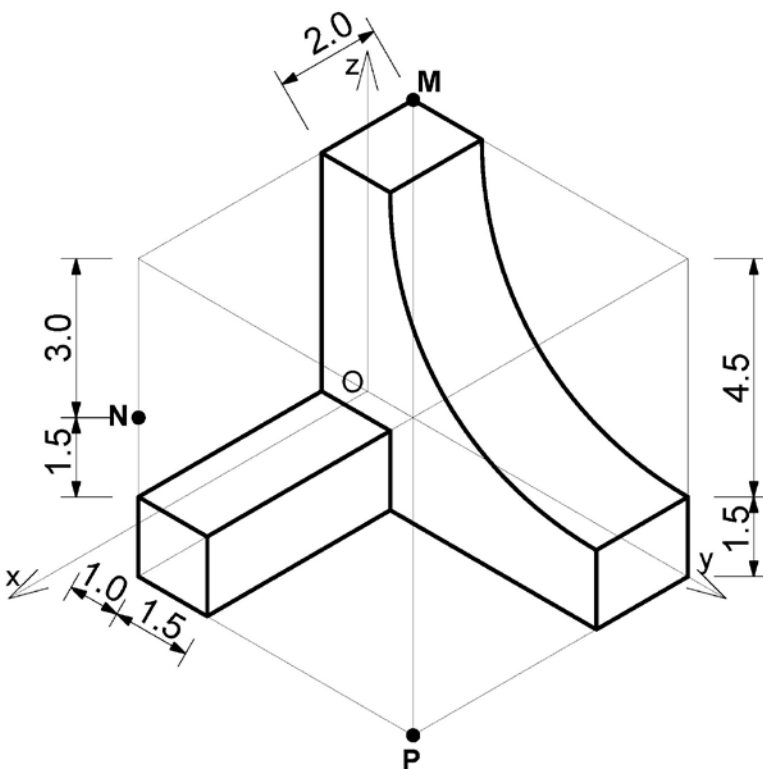
PROBĂ DE ADMITERE - DESEN TEHNIC ȘI DESEN LIBER Specializarea „MOBILIER SI AMENAJĂRI INTERIOARE”

Licență – 3 ani –

Coala de hârtie se poziționează orizontal. Candidatul își va alege partea de hârtie pe care va lucra. În colțul din stânga sus se va desena un pătrat cu latura de 6 cm, (lipit de marginea hârtiei) în care se vor înscrie ulterior datele de identificare ale candidatului. Coala se va împărți în două dreptunghiuri egale printr-o linie verticală subțire. În partea din stânga se vor desena exercițiile de desen tehnic, iar în cea din dreapta perspectiva la proba de desen liber ale carei cerințe se găsesc pe verso. Tehnica de reprezentare a desenului tehnic este creion negru.

DESEN TEHNIC

PROBLEMA 1 (40 puncte)



Se dă un cub suport (considerat transparent), cu latura de 6cm (așezat pe planul orizontal XOY, lipit de planul YOZ și depărtat la 1cm față de planul XOZ). În interiorul lui se află volumul prezentat în axonometrie izometrică alăturată. Se cere să se reprezinte:

- a)# - axonometria izometrică a volumului;
- b)# - epura (tripla proiecție ortogonală) în care proiecția verticală va fi înlocuită cu secțiunea paralelă cu XOZ prin centrul cubului suport;
- c) - axonometria izometrică a corpului obținut după secționarea cu planul MNP (conform schiței) și înlăturarea părții superioare rezultate;
- d) - axonometria izometrică a volumului privită de jos în sus.

OBS.: la subpunctele la care apare simbolul “ # ” se vor reda muchiile invizibile cu linie întreruptă.

PROBLEMA 2 (20 puncte)

Să se reprezinte la scara 1:10 dubla proiecție (orizontală și verticală) precum și axonometria izometrică a unui scaun de bar realizat din lemn (șezut la 70cm).


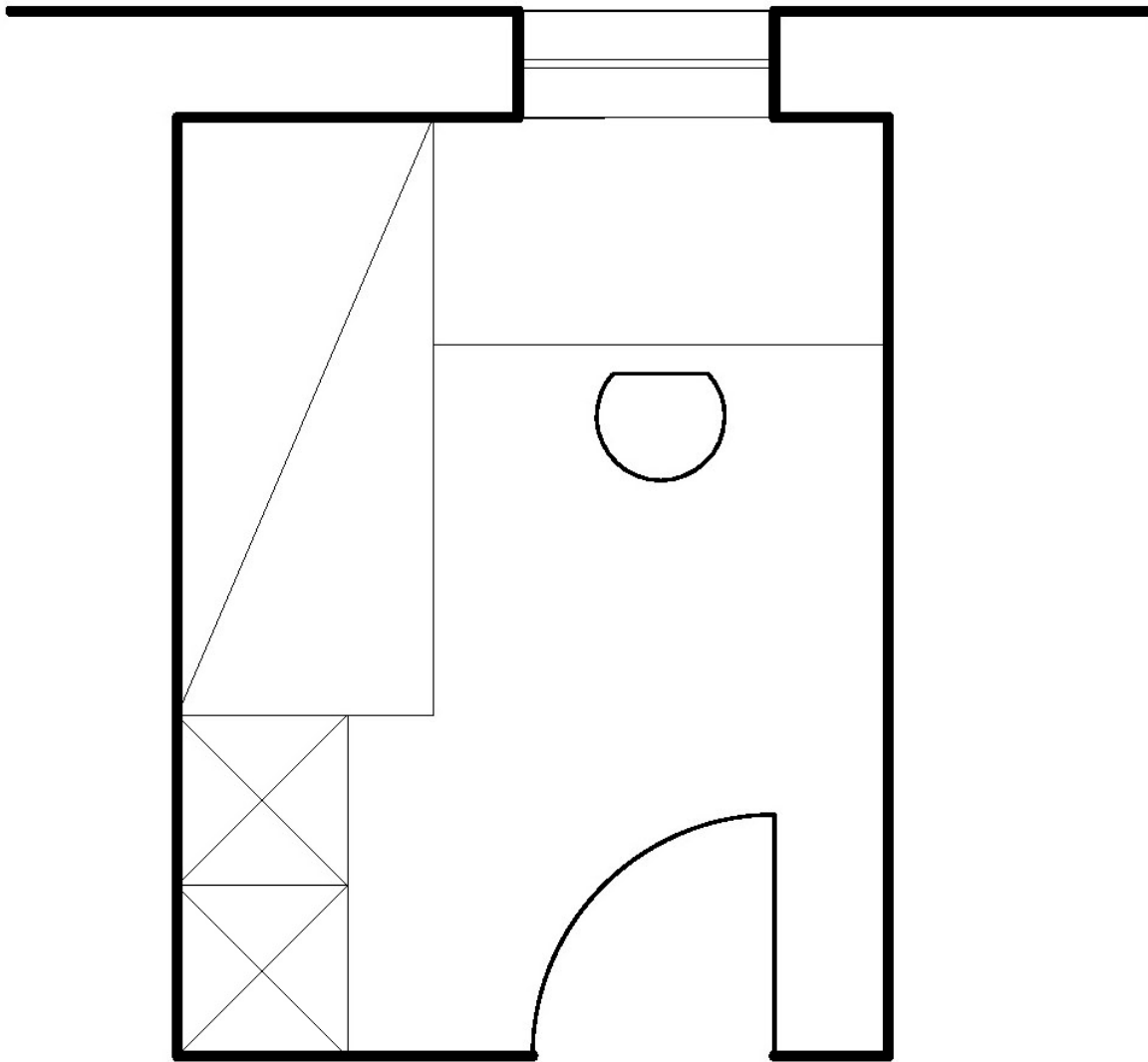
DESEN LIBER

PROBLEMA 3 (40 puncte)

Să se deseneze perspectiva liberă, la două puncte de fugă a unei camere de copil școlar având dimensiunile de 3,80 x 3,10 m și înălțimea de 2,60 m, careia îi corespunde planul la scara 1:50 prezentat mai jos. În interior se află următoarele piese de mobilier: un pat de o persoană, un corp de depozitare format din doua module de 60x60 cm, un birou cu scaun. Încăperea are o fereastră către parcul exterior.

Se pot adăuga și alte elemente pe care le considerați necesare ambientării spațiului interior.

Se va prezenta perspectiva spațiului cu toate elementele sale din direcția indicată de săgeată, la nivelul ochiului, redactată cu creioane colorate. Pereții care se află între privitor și interiorul camerei nu vor fi reprezentați cu materialitate, dar se vor marca muchiile de intersecție între aceștia, tavan și pardoseală.



Criterii de apreciere:

- respectarea datelor de temă;
- corectitudinea reprezentărilor și redarea detaliilor;
- calitatea valorății și a cromaticii;
- suggerarea materialelor;
- expresivitatea artistică și acuratețea desenului.